



Département  
Licence

K1BE6W14 Biomodélisation  
Mathématiques TP machine VI  
Ph. Thieullen

## Travaux pratiques VI Modèles d'interaction entre deux espèces

**TP 1.** Le modèle proie-prédateur simple de Lotka-Volterra, en variables sans dimension, est donné par les équations

$$\begin{cases} \frac{du}{dt} = u(1-v) \\ \frac{dv}{dt} = \alpha v(u-1) \end{cases} \quad \alpha = 1.$$

Tracez quelques trajectoires dans le plan des phases  $(u, v)$ ; puis tracez les deux courbes  $(u(t))$  et  $v(t)$  sur un même graphique pour  $t \in [0, 20]$  et une pour des conditions initiales  $u_0 = 0.2$  et  $v_0 = 0.2$ . On trouvera la figure 1.

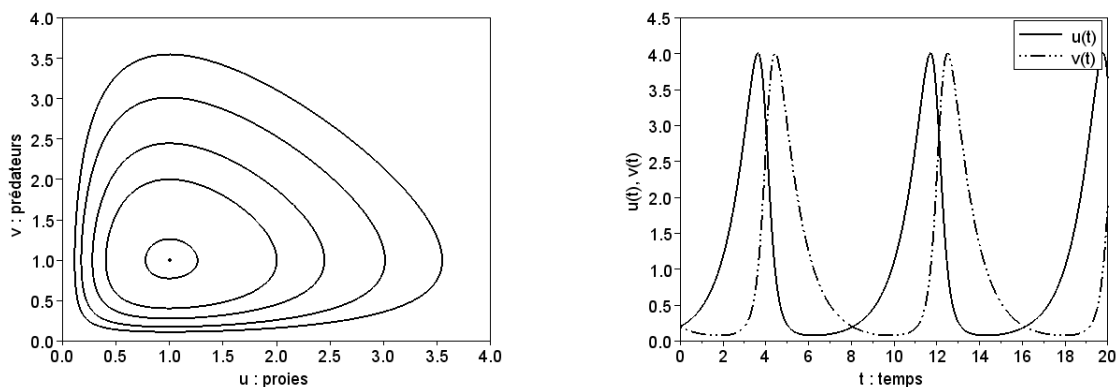


FIGURE 1 – Le modèle proie-prédateur de Lotka-Volterra

**TP 2.** On considère un problème de croissance de bactérie dans un chimostat. Les équations aux variables sans dimension sont données par le système

$$\begin{cases} \frac{dn}{dt} = \beta \frac{nc}{1+c} - n \\ \frac{dc}{dt} = -\frac{nc}{1+c} - c + \gamma \end{cases}$$

où  $n > 0$  et  $c > 0$  sont reliés respectivement aux concentrations des bactéries et de la solution nutritive, et où  $\beta$  et  $\gamma$  sont des constantes reliées au taux de division cellulaire, à la concentration de la source nutritive et à son débit. On choisira les constantes  $\beta$  et  $\gamma$  de sorte que  $\beta > 1$  et que  $\gamma(\beta - 1) > 1$ . On prendra par exemple dans la suite  $\beta = 2$  et  $\gamma = 3$ .

- Tracez les deux points d'équilibre dans le plan  $(n, c)$ .

$$n_0 = 0, c_0 = \gamma \quad \text{et} \quad n_1 = \beta \left( \gamma - \frac{1}{\beta - 1} \right), c_1 = \frac{1}{\beta - 1}.$$

On rappelle que pour dessiner un seul point, on peut utiliser la commande Scilab suivante (en modifiant éventuellement la taille et la couleur)

```
plot([n0;n1],[c0;c1], "LineStyle","none",...
     "Marker", ".", "MarkerSize",6, 'MarkerEdgeColor','red')
```

- Tracer, pour chacun des points d'équilibre, les deux nullclines  $\frac{dn}{dt} = 0$  et  $\frac{dc}{dt} = 0$  dans le plan  $(n, c)$ .
- Tracez le champ de vecteur
- Tracez quelques trajectoires. Quel est le type de chaque point d'équilibre (selle, nœud, spirale ou centre)? On trouvera la figure 2.

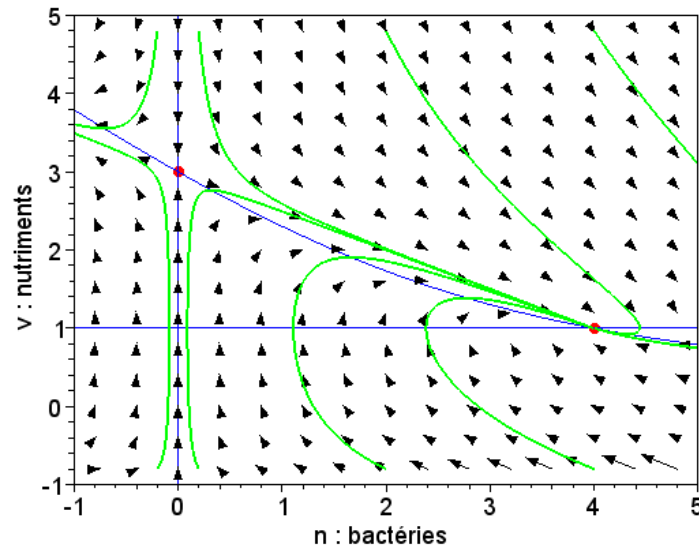


FIGURE 2 – Modèle de croissance dans un chémostat :  $(n_0, c_0)$  est un point selle,  $(n_1, c_1)$  est un nœud stable.

**TP 3.** On considère un problème de deux espèces en symbiose. On suppose que la survie de chaque espèce dépend de celle de l'autre. Les équations normalisée sont

$$\begin{cases} \frac{du}{dt} = u(1 - u + \alpha v) \\ \frac{dv}{dt} = \rho v(1 - v + \beta u) \end{cases} \quad \rho = 10, \quad \alpha = \frac{1}{4}, \quad \beta = 2.$$

Tracer les 4 points d'équilibre

$$\begin{bmatrix} 0 \\ 0 \end{bmatrix}, \quad \begin{bmatrix} 1 \\ 0 \end{bmatrix}, \quad \begin{bmatrix} 0 \\ 1 \end{bmatrix} \quad \text{et} \quad \begin{bmatrix} \frac{1+\alpha}{1-\alpha\beta} \\ \frac{1+\beta}{1-\alpha\beta} \end{bmatrix}$$

Tracez les nullclines et quelques trajectoires, puis recommencez avec  $(\rho, \alpha, \beta) = (10, 1, 2)$ . On trouvera la figure 3.

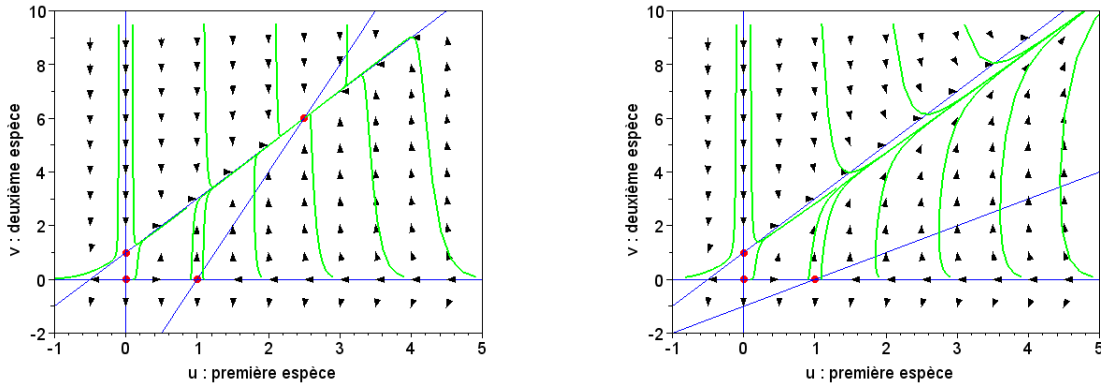


FIGURE 3 – Le modèle de deux espèces en symbiose de Lotka-Volterra : le dessin de gauche concerne le cas  $\alpha\beta < 1$ , celui de droite, le cas  $\alpha\beta > 1$ .